

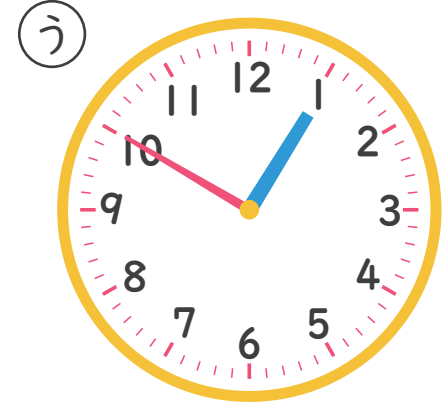


なんじなんぷん

ただしいとけいを こたえましょう！ (2)

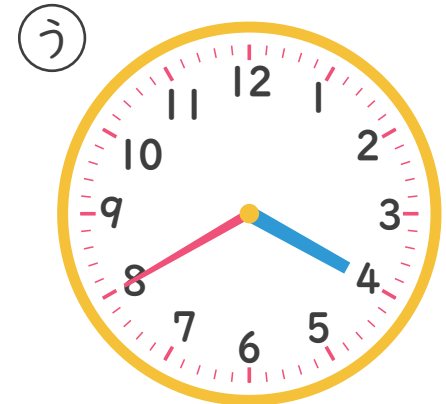
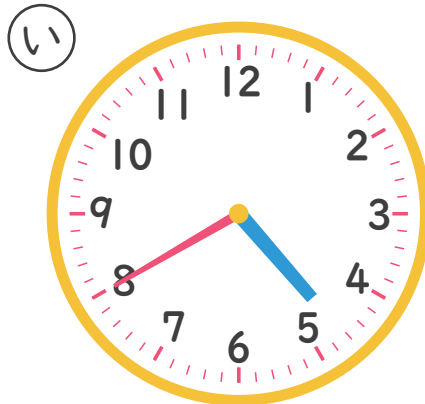
ねん くみ なまえ

1 10じ5ふんの とけいは どれですか。



こたえ _____

2 4じ40ふんの とけいは どれですか。



こたえ _____